

**A n'utiliser qu'après avoir VRAIMENT cherché et rédigé les exercices !**

**Exercice 1 : Révisions calculatoires**

1.

$$A = \frac{\frac{x}{x-y} - \frac{y}{x+y}}{\frac{y}{x-y} + \frac{x}{x+y}} = \frac{\frac{x(x+y) - y(x-y)}{x^2 - y^2}}{\frac{y(x+y) + x(x-y)}{x^2 - y^2}} = \frac{x^2 + y^2}{y^2 + x^2} = 1$$

$$B = \frac{1}{x - \frac{1}{3 + \frac{x-2}{5-x}}} = \frac{1}{x - \frac{5-x}{13-2x}} = \frac{13-2x}{-2x^2 + 14x - 5}$$

2.  $A = (2\sqrt{3} - 3\sqrt{5})^2 = 57 - 12\sqrt{15}$        $B = (7\sqrt{2} - 5\sqrt{3})(5\sqrt{3} + 7\sqrt{2}) = 23$   
 $C = (7\sqrt{7} - 5\sqrt{5})(-7\sqrt{7} - 5\sqrt{5}) = -218$        $D = (\sqrt{72} - \sqrt{288})(\sqrt{288} - \sqrt{72}) = -72$   
 $E = (2 - \sqrt{3})^n (2 + \sqrt{3})^n = [(2 - \sqrt{3})(2 + \sqrt{3})]^n = 1^n = 1$

3.

$$A = \frac{1}{5 - 2\sqrt{2}} = \frac{5 + 2\sqrt{2}}{17}$$

$$B = \frac{3\sqrt{5}}{2\sqrt{5} + 1} = \frac{30 - 3\sqrt{5}}{19}$$

$$C = \frac{\sqrt{2} + \sqrt{3}}{5\sqrt{3} + 3\sqrt{2}} = \frac{(\sqrt{2} + \sqrt{3})(5\sqrt{3} - 3\sqrt{2})}{57} = \frac{9 + 2\sqrt{6}}{57}$$

4.

$$A = [(a^2 b^3)^4]^5 = a^{40} b^{60}$$

$$B = (a^3 b^{-4})^2 \times (-2a^{-5} b^6)^3 = -8a^{-9} b^{10};$$

$$C = \left(\frac{a^2}{b^3}\right)^2 \times \left(\frac{a}{4b}\right)^3 \times \left(\frac{b^2}{a}\right)^2 = \frac{a^5}{64b^5}$$

$$D = \left(\frac{a^1 b^{-2}}{a^{-3} b^4}\right)^5 \div \left(\frac{a^{-6} b^5}{a^4 b^{-3}}\right)^3 = a^{50} b^{-54}$$

5.

$$A = (-4)^{60} \times (-0,125)^{41} = -(2^{120} \times 2^{-123}) = -0,125$$

$$B = 40^{71} \times (1,25)^{48} \times 10^{-119} = 2^{213} \cdot 5^{71} \cdot 5^{48} \cdot 2^{-96} \cdot 2^{-119} \cdot 5^{-119} = 2^{-2} = 0,25$$

**Exercice 2 :**

1).  $E_1: x^2 - 5x - 6 = 0$     -1 est une racine évidente, or  $ax_1 x_2 = -6$     d'où 6 est l'autre racine.  
 (autre méthode : utilisation du discriminant)

$S = \{-1; 6\}$

$E_2: x^2 - 2\sqrt{3}x + 3 = 0$

Soit  $x \in \mathbb{R}$ ,  $x$  est solution de  $E_2$  si et seulement si (ssi)  $(x - \sqrt{3})^2 = 0$  (identité remarquable)

ssi  $x = \sqrt{3}$       d'où 

$S = \{\sqrt{3}\}$

$E_3: x^2 + 2x + 2 = 0$     Calculons le discriminant du polynôme  $x^2 + 2x + 2 : \Delta = b^2 - 4ac = 4 - 4 \times 2 = -4 < 0$   
 Donc ce polynôme du 2<sup>nd</sup> degré n'admet pas de racines. 

$S = \emptyset$

$I_4: -6x^2 + 12x + 90 \geq 0$

Soit  $x \in \mathbb{R}$ ,  $x$  est solution de  $I_4$  ssi  $x^2 - 2x - 15 \leq 0$

Calculons le discriminant du polynôme  $x^2 - 2x - 15 : \Delta = (-2)^2 - 4 \times 1 \times (-15) = 64 = (8)^2 > 0$

Donc ce polynôme du 2<sup>nd</sup> degré admet deux racines  $\begin{cases} x_1 = \frac{-b-\sqrt{\Delta}}{2a} = \frac{2-8}{2} = -3 \\ x_2 = \frac{-b+\sqrt{\Delta}}{2a} = \frac{2+8}{2} = 5 \end{cases}$

Or un polynôme du 2<sup>nd</sup> degré est du signe du coefficient de  $x^2$  à l'extérieur des racines donc  $\mathcal{S} = [-3; 5]$

$I_5: \frac{1}{4}x^2 - x + 1 > 0 \quad \Delta = (-1)^2 - 4 \times \frac{1}{4} \times 1 = 0$

donc le polynôme  $\frac{1}{4}x^2 - x + 1$  admet une seule racine :  $x_0 = -\frac{b}{2a} = 2$ . D'où  $\mathcal{S} = \mathbb{R} \setminus \{2\}$

$I_6: 2\cos^2 x + 3\cos x - 2 = 0$  On pose  $X = \cos x$  et on résout  $2X^2 + 3X - 2 = 0$ .  $\Delta = 25$

Donc  $\begin{cases} X_1 = \frac{-b-\sqrt{\Delta}}{2a} = \frac{-3-5}{4} = -2 \\ X_2 = \frac{-b+\sqrt{\Delta}}{2a} = \frac{-3+5}{4} = \frac{1}{2} \end{cases}$

Or  $X = \cos x$ . On résout donc  $\cos x = -2$  ou  $\cos x = \frac{1}{2}$

$\forall x \in \mathbb{R}, \cos x \in [-1; 1]$ , donc  $\cos x = -2$  est impossible.

$\cos x = \frac{1}{2}$  ssi  $x = \frac{\pi}{3} + 2k\pi$  ou  $x = -\frac{\pi}{3} + 2k\pi, k \in \mathbb{Z}$  d'où  $\mathcal{S} = \left\{ \frac{\pi}{3} + 2k\pi; -\frac{\pi}{3} + 2k\pi \text{ avec } k \in \mathbb{Z} \right\}$

$E_6: e^{2x^2+3} = e^{7x}$

Soit  $x \in \mathbb{R}$ ,  $x$  est solution de  $E_6$  ssi  $2x^2 + 3 = 7x$  car la fonction exponentielle est strictement croissante sur  $\mathbb{R}$

ssi  $x = \frac{7-\sqrt{25}}{4} = \frac{1}{2}$  ou  $x = \frac{7+\sqrt{25}}{4} = 3$  ( $\Delta = (-7)^2 - 4 \times 2 \times 3 = 25$ ) D'où  $\mathcal{S} = \left\{ \frac{1}{2}; 3 \right\}$

$I_7: e^{3x+5} \leq 1$

Soit  $x \in \mathbb{R}$ ,  $x$  est solution de  $E_6$  ssi  $e^{3x+5} \leq e^0$

ssi  $3x + 5 \leq 0$  car la fonction exponentielle est strictement croissante sur  $\mathbb{R}$

ssi  $x \leq -\frac{5}{3}$  D'où  $\mathcal{S} = ]-\infty; -5/3]$

2) a)  $f(x) = x^2 - 2x - 3 = x^2 - 2x + 1 - 1 - 3$  donc  $f(x) = (x-1)^2 - 4$

b)  $-2 \leq x \leq 0$  ssi  $0 \leq x^2 \leq 4$  car la fonction carrée est strictement décroissante sur  $\mathbb{R}^-$

et  $-2 \leq x \leq 0$  ssi  $0 \leq -2x \leq 4$

donc si  $-2 \leq x \leq 0$  alors  $0 + 0 - 3 \leq x^2 - 2x - 3 \leq 4 + 4 - 3$  c'est-à-dire  $f(x) \in [-3; 5]$

Autre méthode possible : on montre que  $f$  est décroissante sur  $] -\infty; -1]$  et donc que :

si  $-2 \leq x \leq 0$  alors  $f(0) \leq f(x) \leq f(-2)$ .

3) a)  $P(4) = 4^3 - 15 \times 4 - 4 = 64 - 60 - 4 = 0$  donc  $4$  est racine de  $P(x)$ .

b)  $(x-4)(ax^2 + bx + c) = ax^3 + x^2(-4a+b) + x(-4b+c) - 4c$

or  $P(x) = x^3 - 15x - 4$  donc par identification, on en déduit que  $a = 1, b = 4a = 4, c = 1$

donc  $P(x) = (x-4)(x^2 + 4x + 1)$

Cherchons les racines de  $x^2 + 4x + 1$  :  $\Delta = b^2 - 4ac = 16 - 4 = 12$  donc  $\begin{cases} x_1 = \frac{-b-\sqrt{\Delta}}{2a} = \frac{-4-\sqrt{12}}{2} = -2 - \sqrt{3} \\ x_2 = \frac{-b+\sqrt{\Delta}}{2a} = \frac{-4+\sqrt{12}}{2} = -2 + \sqrt{3} \end{cases}$

D'où  $P(x) = (x-4)(x+2+\sqrt{3})(x+2-\sqrt{3})$

Tableau de signe :

$x$	$-\infty$	$-2 - \sqrt{3}$	$-2 + \sqrt{3}$	$4$	$+\infty$	
$x - 4$		-	-	0	+	
$x + 2 + \sqrt{3}$		-	0	+	+	
$x + 2 - \sqrt{3}$		-	-	0	+	
$P(x)$		-	0	+	0	+

Donc  $\mathcal{S} = [-2 - \sqrt{3}; -2 + \sqrt{3}] \cup [4; +\infty[$

4)  $I_9 : -x^2 + \sqrt{3} + \frac{6}{x^2} \leq 0$  Valeur interdite :  $x = 0$

Soit  $x \in \mathbb{R}^*$ ,  $x$  est solution de  $I_9$  ssi  $\frac{-x^4 + \sqrt{3}x^2 + 6}{x^2} \leq 0$

ssi  $-x^4 + \sqrt{3}x^2 + 6 \leq 0$  car  $\forall x \in \mathbb{R}^*$ ,  $x^2 > 0$

On pose  $X = x^2$  et on résout  $-X^2 + \sqrt{3}X + 6 \leq 0$  :  $\Delta = 27 > 0$  donc  $\begin{cases} X_1 = \frac{-b - \sqrt{\Delta}}{2a} = \frac{-\sqrt{3} - \sqrt{27}}{-2} = 2\sqrt{3} \\ X_2 = \frac{-b + \sqrt{\Delta}}{2a} = \frac{-\sqrt{3} + \sqrt{27}}{-2} = -\sqrt{3} \end{cases}$

Soit  $-(X + \sqrt{3})(X - 2\sqrt{3}) \leq 0$  Or  $X = x^2$  donc on résout  $-(x^2 + \sqrt{3})(x^2 - 2\sqrt{3}) \leq 0$

Or  $x^2 + \sqrt{3} > 0$ ,  $\forall x \in \mathbb{R}^*$  donc il suffit de résoudre  $x^2 - 2\sqrt{3} \geq 0$

$x^2 - 2\sqrt{3} \geq 0$  ssi  $(x - \sqrt{2\sqrt{3}})(x + \sqrt{2\sqrt{3}}) \geq 0$  or un polynôme du 2<sup>nd</sup> degré est du signe de  $a$  à l'extérieur des racines

donc  $\mathcal{S} = ]-\infty; -\sqrt{2\sqrt{3}}] \cup [\sqrt{2\sqrt{3}}; +\infty[$

$E_{10} : |-3x + 4| + |-5 + x| = 10$

On détermine les valeurs frontières de chaque valeur absolue :  $-3x + 4 = 0$  soit  $x = 4/3$  et  $-5 + x = 0$  soit  $x = 5$

On remplit un tableau de forme :

$x$	$-\infty$	$\frac{4}{3}$	$5$	$+\infty$
$ -3x + 4 $	$-3x + 4$	0	$3x - 4$	$3x - 4$
$ -5 + x $	$5 - x$	$\frac{11}{3}$	$5 - x$	$-5 + x$
$(E_1)$	$-4x + 9 = 10$ $x = -\frac{1}{4}$ possible	$2x + 1 = 10$ $x = \frac{9}{2}$ possible	$4x - 9 = 10$ $x = \frac{19}{4}$ impossible	

D'où  $\mathcal{S} = \left\{ -\frac{1}{4}; \frac{9}{2} \right\}$

$I_{11} : |2x - 1| \leq |x + 2|$

On détermine les valeurs frontières de chaque valeur absolue :  $2x - 1 = 0$  soit  $x = \frac{1}{2}$  et  $x + 2 = 0$  soit  $x = -2$

On remplit un tableau de forme :

$x$	$-\infty$	$-2$	$\frac{1}{2}$	$+\infty$	
$ 2x - 1 $	$-2x + 1$	$5$	$-2x + 1$	$0$	$2x - 1$
$ x + 2 $	$-x - 2$	$0$	$x + 2$	$\frac{5}{2}$	$x + 2$
$(E_2)$	$-2x + 1 \leq -x - 2$ $x \geq 3$ impossible $\mathcal{S}_1 = \emptyset$	$-2x + 1 \leq x + 2$ $x \geq -\frac{1}{3}$ $\mathcal{S}_2 = \left[ -\frac{1}{3}; \frac{1}{2} \right]$	$2x - 1 \leq x + 2$ $x \leq 3$ $\mathcal{S}_3 = \left[ \frac{1}{2}; 3 \right]$		

D'où  $\mathcal{S} = \mathcal{S}_1 \cup \mathcal{S}_2 \cup \mathcal{S}_3 = \left[ -\frac{1}{3}; 3 \right]$

$I_{12} : x + 1 \geq \sqrt{3 - x}$   $\sqrt{3 - x}$  est définie pour  $x \leq 3$ . De plus, pour que l'inéquation soit possible, il faut que  $x + 1 \geq 0$  donc  $x \in [-1; 3]$ .

On élève chacun des membres de  $I_{12}$  au carré, on peut garder l'équivalence car chacun des membres de l'inégalité est positif sur  $[-1; 3]$  et que la fonction carrée est strictement croissante sur  $\mathbb{R}^+$ .

Soit  $x \in [-1; 3]$ ,  $x$  est solution de  $I_{12}$  ssi  $(x + 1)^2 \geq 3 - x$ , soit  $x^2 + 3x - 2 \geq 0$ .

Les racines du polynôme  $x^2 + 3x - 2$  sont  $\begin{cases} x_1 = \frac{-3-\sqrt{17}}{2} \\ x_2 = \frac{-3+\sqrt{17}}{2} \end{cases}$  Or un polynôme du 2<sup>nd</sup> degré est du signe de  $x^2$  à l'extérieur des racines et  $x \in [-1; 3]$  donc  $\mathcal{S} = \left[ \frac{-3+\sqrt{17}}{2}; 3 \right]$

$I_{13} : e^{2x} + 3e^x - 4 \geq 0$  On pose  $X = e^x$  et on résout alors  $X^2 + 3X - 4 \geq 0$ , soit  $(X - 1)(X + 4) \geq 0$

Or un polynôme du 2<sup>nd</sup> degré est du coefficient de  $x^2$  à l'extérieur des racines donc  $e^x \leq -4$  ou  $e^x \geq 1$

$e^x \leq -4$  est impossible et  $e^x \geq 1$  ssi  $x \geq 0$  donc  $\mathcal{S} = \mathbb{R}^+$

### Exercice 3 : Etude de fonctions

1)  $f(x) = x^3 - 6x^2 + 2$ ,  $f$  est définie sur  $\mathbb{R}$   
 $\left. \begin{array}{l} \lim_{x \rightarrow +\infty} f(x) = \lim_{x \rightarrow +\infty} x^3 = +\infty \\ \lim_{x \rightarrow -\infty} f(x) = \lim_{x \rightarrow -\infty} x^3 = -\infty \end{array} \right\}$  car la limite en l'infini d'un polynôme correspond à celle du monôme de plus haut degré.

•  $f$  est dérivable sur  $\mathbb{R}$  comme fonction polynôme.  $f'(x) = 3x^2 - 12x = 3x(x - 4)$

Un polynôme du second degré est du signe du coefficient de  $x^2$  à l'extérieur des racines donc :

$x$	$-\infty$	$0$	$4$	$+\infty$	
Signe de $f'(x)$	$+$	$0$	$-$	$0$	$+$
Variations de $f$	$-\infty$	$\nearrow$	$\searrow$	$\nearrow$	$+\infty$

2)  $f(x) = (2 - x)\sqrt{x}$ ,  $f$  est définie sur  $\mathbb{R}^+$

$\left. \begin{array}{l} \lim_{x \rightarrow +\infty} 2 - x = -\infty \\ \lim_{x \rightarrow +\infty} \sqrt{x} = +\infty \end{array} \right\}$  donc  $\lim_{x \rightarrow +\infty} f(x) = -\infty$

•  $f$  est dérivable sur  $\mathbb{R}^{++}$  comme produit de fonctions dérivables.

$f = u \times v$  avec  $u(x) = 2 - x$ ,  $u'(x) = -1$ ,  $v(x) = \sqrt{x}$ ,  $v'(x) = \frac{1}{2\sqrt{x}}$

$f' = u' \times v + u \times v'$  donc  $f'(x) = -\sqrt{x} + \frac{2-x}{2\sqrt{x}} = \frac{\sqrt{x}}{2} \left( 1 - \frac{3}{2}x \right)$   $f'(x)$  est du signe de  $1 - \frac{3}{2}x$

Tableau de variation de  $f$  :

$x$	$0$	$\frac{2}{3}$	$+\infty$		
Signe de $f'(x)$	$  $	$+$	$0$	$-$	
Variations de $f$	$0$	$\nearrow$	$f\left(\frac{2}{3}\right)$	$\searrow$	$+\infty$

• Equation de la tangente au point d'abscisse 1 :

$T_a : y = f'(a)(x - a) + f(a)$

or  $f'(1) = -\frac{1}{2}$  et  $f(1) = 1$

Donc  $T_1 : y = -\frac{1}{2}(x - 1) + 1 = -\frac{x}{2} + \frac{3}{2}$

3)  $f(x) = \frac{2x-1}{x-3}$ ,  $f$  est définie sur  $\mathbb{R} \setminus \{3\}$

$f(x) = \frac{2x-1}{x-3} = \frac{2-\frac{1}{x}}{1-\frac{3}{x}}$  donc  $\lim_{x \rightarrow +\infty} f(x) = \lim_{x \rightarrow -\infty} f(x) = 2$

$\lim_{x \rightarrow 3^+} f(x) = +\infty$  et  $\lim_{x \rightarrow 3^-} f(x) = -\infty$

•  $f$  est dérivable sur  $\mathbb{R} \setminus \{3\}$  comme fonction rationnelle.

$f = \frac{u}{v}$  avec  $u(x) = 2x - 1$ ,  $u'(x) = 2$ ,  $v(x) = x - 3$ ,  $v'(x) = 1$

$f' = \frac{u'v - uv'}{v^2}$  donc  $\forall x \in \mathbb{R} \setminus \{3\}$ ,  $f'(x) = \frac{2(x-3) - (2x-1)}{(x-3)^2} = \frac{-5}{(x-3)^2} < 0$

Donc  $f$  est strictement décroissante sur  $] -\infty; 3[$  et sur  $] 3; +\infty[$

4)  $f(x) = \frac{x^2-3x}{x+1}$ ,  $f$  est définie sur  $\mathbb{R} \setminus \{-1\}$

$f(x) = \frac{2x-3}{1+\frac{1}{x}}$  donc  $\lim_{x \rightarrow +\infty} f(x) = +\infty$  et  $\lim_{x \rightarrow -\infty} f(x) = -\infty$

$\lim_{x \rightarrow -1^+} f(x) = +\infty$  et  $\lim_{x \rightarrow -1^-} f(x) = -\infty$

•  $f$  est dérivable sur  $\mathbb{R} \setminus \{-1\}$  comme fonction rationnelle.

$$f = \frac{u}{v} \text{ avec } u(x) = x^2 - 3x, \quad u'(x) = 2x - 3, \quad v(x) = x + 1, \quad v'(x) = 1$$

$$f' = \frac{u'v - uv'}{v^2} \quad \text{donc } f'(x) = \frac{(2x-3)(x+1) - (x^2-3x)}{(x+1)^2} = \frac{x^2+2x-3}{(x+1)^2} = \frac{(x-1)(x+3)}{(x+1)^2}$$

Donc  $f'(x)$  est du signe de  $x^2 + 2x - 3$ , donc du signe du coefficient de  $x^2$  à l'extérieur des racines.

Tableau de variation de  $f$  :

$x$	$-\infty$	$-3$	$-1$	$1$	$+\infty$			
Signe de $f'(x)$	$+$	$0$	$-$	$-$	$0$	$+$		
Variations de $f$	$-\infty$	$\nearrow$	$-9$	$\searrow$	$-\infty$	$+\infty$		
				$+\infty$	$\searrow$	$-1$	$\nearrow$	$+\infty$

• Montrons que  $\Omega(-1; -5)$  est un centre de symétrie. Pour ce faire, montrons que  $\Omega$  est le milieu de  $[MM']$ ,  $M$  ayant pour abscisse  $-1 + h$  et  $M'$  ayant pour abscisse  $-1 - h$  avec  $h \in \mathbb{R}^*$ .

$-1 + h \in \mathcal{D}_f$  et  $-1 - h \in \mathcal{D}_f$ . Calculons  $f(-1 + h)$  et  $f(-1 - h)$

$$\left. \begin{aligned} f(-1 + h) &= \frac{h^2 - 2h + 1 + 3 - 3h}{h} = h - 5 + \frac{4}{h} \\ f(-1 - h) &= \frac{h^2 + 2h + 1 + 3 + 3h}{-h} = -h - 5 - \frac{4}{h} \end{aligned} \right\} \text{ donc } \frac{f(-1 + h) + f(-1 - h)}{2} = -5$$

Donc  $x_\Omega = \frac{x_M + x_{M'}}{2}$  et  $y_\Omega = \frac{y_M + y_{M'}}{2}$ . Donc  $\Omega(-1; -5)$  est bien centre de symétrie de  $\mathcal{C}_f$

•  $f(x) = \frac{x^2 + x - 4x - 4 + 4}{x+1} = \frac{x(x+1) - 4(x+1) + 4}{x+1}$  donc  $f(x) = x - 4 + \frac{4}{x+1}$  (autre méthode : identification).

• On a  $f(x) - (x - 4) = \frac{4}{x+1}$  donc  $\forall x \in ]-\infty; -1[$ ,  $f(x) - (x - 4) < 0$  et  $\forall x \in ]-1; +\infty[$ ,  $f(x) - (x - 4) > 0$

Donc  $\mathcal{C}$  est en-dessous de  $\Delta$  sur  $]-\infty; -1[$  et  $\mathcal{C}$  est au-dessus de  $\Delta$  sur  $]-1; +\infty[$ .

5)  $f(x) = 3e^{2-x} + e$ ,  $f$  est définie et dérivable sur  $\mathbb{R}$ .  $f'(x) = -3e^{2-x} < 0$  sur  $\mathbb{R}$  donc  $f$  est strictement décroissante sur  $\mathbb{R}$ .

6)  $f(x) = \cos x \times (1 + \cos x)$ ,  $f$  est définie sur  $\mathbb{R}$ .  $f(x + 2\pi) = f(x)$ .  $f$  est  $2\pi$ -périodique.

De plus, si  $x \in \mathcal{D}_f$  alors,  $-x \in \mathcal{D}_f$  et  $f(-x) = f(x)$  donc  $f$  est paire. On limitera notre étude à  $[0, \pi]$

$f$  est dérivable sur  $\mathbb{R}$  sur comme produit de fonctions dérivables.

$$f'(x) = (-\sin x) \times (1 + \cos x) + \cos x \times (-\sin x) = -\sin x (1 + 2 \cos x)$$

$$\cos x = -\frac{1}{2} \Leftrightarrow x = \frac{2\pi}{3} + 2k\pi \quad \text{ou} \quad x = -\frac{2\pi}{3} + 2k\pi \quad \text{avec } k \in \mathbb{Z}$$

Tableau de variation de  $f$  :

$x$	$0$	$\frac{2\pi}{3}$	$\pi$	
$-\sin x$	$0$	$-$	$0$	
$1 + 2 \cos x$	$+$	$0$	$-$	
Signe de $f'(x)$	$0$	$-$	$0$	
Variations de $f$	$2$	$\searrow$	$-1/4$	
			$\nearrow$	$0$

**Exercice 4 :**

$$f(x) = ax + b - \frac{c}{x+2}$$

1)  $f$  est dérivable sur  $\mathbb{R} \setminus \{-2\}$  comme somme de fonctions dérivables sur  $\mathbb{R} \setminus \{-2\}$ .

$$f'(x) = a + \frac{c}{(x+2)^2}$$

2)  $A(1; 2) \in \mathcal{C}_f$  donc  $f(1) = a + b - \frac{c}{3} = 2$

$T_{-1}: y = -x - 1$  donc  $f'(-1) = -1$  soit  $a + c = -1$  et  $f(-1) = 0$  soit  $-a + b - c = 0$

$$\text{On résout donc le système : } \begin{cases} a + b - \frac{c}{3} = 2 \\ a + c = -1 \\ -a + b - c = 0 \end{cases} \quad (S)$$

$$(a, b, c) \text{ est solution de } (S) \text{ ssi } \begin{cases} a + b - \frac{c}{3} = 2 \\ a + c = -1 \\ b = -1 \end{cases} \quad (l_2 + l_3 \rightarrow l_3) \quad \text{ssi } \begin{cases} a - \frac{c}{3} = 3 \\ a = -1 - c \\ b = -1 \end{cases} \quad \text{ssi } \begin{cases} -\frac{4c}{3} = 4 \\ a = -1 - c \\ b = -1 \end{cases} \quad \text{ssi } \begin{cases} c = -3 \\ a = 2 \\ b = -1 \end{cases}$$

Donc  $f(x) = 2x - 1 + \frac{3}{x+2}$

3) Deux droites sont parallèles quand elles ont même coefficient directeur. Or le coefficient de la tangente à  $\mathcal{C}$  au point d'abscisse  $x$  vaut  $f'(x)$ . On résout donc  $f'(x) = 1$ .

$$x \text{ est solution de l'équation } f'(x) = 1 \text{ ssi } 2 - \frac{3}{(x+2)^2} = 1 \text{ ssi } 3 = (x+2)^2 \text{ ssi } x^2 + 4x + 1 = 0 \text{ ssi } \begin{cases} x_1 = -2 - \sqrt{3} \\ x_2 = -2 + \sqrt{3} \end{cases}$$

La tangente à  $\mathcal{C}$  aux points d'abscisse  $x_1$  et  $x_2$  est parallèle à  $\Delta$ .

### Exercice 5 : Calcul de dérivées de fonctions composées

1)  $f: x \mapsto 5x - 2 \mapsto \sqrt{5x - 2}$  donc  $f(x) = h \circ i(x)$  avec  $h(x) = \sqrt{x}$  et  $i(x) = 5x - 2$   
 $h$  est dérivable sur  $\mathbb{R}^{+*}$  et  $h'(x) = \frac{1}{2\sqrt{x}}$

$i$  est dérivable sur  $\mathbb{R}$ ,  $i(x) > 0$  pour  $x > \frac{2}{5}$  et  $i'(x) = 5$

Donc  $f$  est dérivable sur  $]\frac{2}{5}; +\infty[$ ,  $f' = i' \times h'(i)$

Donc  $f'(x) = \frac{5}{2\sqrt{5x-2}}$

2)  $g: x \mapsto 2x - 3 \mapsto (2x - 3)^5$  donc  $g(x) = j \circ k(x)$  avec  $j(x) = x^5$  et  $k(x) = 2x - 3$   
 $j$  est dérivable sur  $\mathbb{R}$  et  $j'(x) = 5x^4$   $k$  est dérivable sur  $\mathbb{R}$  et  $k'(x) = 2$

Donc  $g$  est dérivable sur  $\mathbb{R}$ ,  $g' = k' \times j'(k)$  Donc  $g'(x) = 10(2x - 3)^4$

3)  $h: x \mapsto x^2 - 3x \mapsto e^{x^2 - 3x}$  donc  $h(x) = l \circ m(x)$  avec  $l(x) = e^x$  et  $m(x) = x^2 - 3x$   
 $l$  est dérivable sur  $\mathbb{R}$  et  $l'(x) = e^x$   $m$  est dérivable sur  $\mathbb{R}$  et  $m'(x) = 2x - 3$

Donc  $h$  est dérivable sur  $\mathbb{R}$ ,  $h' = m' \times l'(m)$  Donc  $h'(x) = (2x - 3)e^{x^2 - 3x}$

### Exercice 6 :

1)  $\forall m \in \mathbb{R}, (-1; -2) \in \mathcal{D}_m$ . En effet,  $m(-1 + 1) - 2 = -2$ .

Donc le point  $C$  de coordonnées  $(-1; -2)$  est le point fixe recherché. De plus,  $C \in \mathcal{H}$ , car  $\frac{2}{-1} = -2$

2)  $m$  représente le coefficient directeur de  $\mathcal{D}_m$ .

3) On résout l'équation  $(E) : \frac{2}{x} = m(x + 1) - 2$  Valeur interdite :  $x = 0$

Soit  $x \in \mathbb{R}^*$ ,  $x$  est solution de  $(E)$  ssi  $mx^2 + x(m - 2) - 2 = 0$  ( $E'$ )

1<sup>er</sup> cas :  $m = 0$  ( $E'$ ) s'écrit  $-2x - 2 = 0$  Soit  $x = -1$  et  $y = -2$

2<sup>ème</sup> cas :  $m \neq 0$  On calcule le discriminant :  $\Delta = (m - 2)^2 + 8m = m^2 + 4m + 4 = (m + 2)^2$

$\Delta = 0$  pour  $m = -2$ , ( $E'$ ) s'écrit  $-2x^2 - 4x - 2 = 0$  donc  $x = -1$  donc  $\mathcal{H} \cap \mathcal{D}_{-2} = \{C(-1; -2)\}$

$\Delta > 0 \forall m \in \mathbb{R} \setminus \{0; -2\}$ , l'équation ( $E'$ ) admet deux solutions, il y a donc deux points d'intersection.

$$\begin{cases} x_1 = \frac{-b - \sqrt{\Delta}}{2a} = \frac{-(m-2) - |m+2|}{2m} \\ x_2 = \frac{-b + \sqrt{\Delta}}{2a} = \frac{-(m-2) + |m+2|}{2m} \end{cases}$$

Si  $m > -2$ ,  $\begin{cases} x_1 = -1 & \text{donc } y_1 = 2 \\ x_2 = \frac{2}{m} & \text{donc } y_1 = m \end{cases}$  et si  $m < -2$ ,  $\begin{cases} x_1 = \frac{2}{m} & \text{donc } y_1 = m \\ x_2 = -1 & \text{donc } y_1 = 2 \end{cases}$

Conclusion :

$$\begin{cases} \text{Si } m = 0 & \mathcal{H} \cap \mathcal{D}_0 = \{C(-1; -2)\} \\ \text{Si } m = -2 & \mathcal{H} \cap \mathcal{D}_{-2} = \{C(-1; -2)\} \\ \forall m \in \mathbb{R} \setminus \{0; -2\} & \mathcal{H} \cap \mathcal{D}_m = \left\{ C(-1; -2); B\left(\frac{2}{m}; m\right) \right\} \end{cases}$$

### Exercice 7 : Suites

1)  $u_n = u_0 + nr$  donc  $u_0 = u_{100} - 100r = 650 - 100 \times 8 = -150$

2)  $S = 1 + 3 + 9 + 27 + \dots + 59049 = 3^0 + 3^1 + 3^2 + \dots + 3^{10}$

C'est la somme des termes d'une suite géométrique de raison 3 donc  $S = \frac{u_0(1-q^{n+1})}{1-q} = \frac{1-3^{11}}{1-3} = 88573$

$S' = 1 + 4 + 7 + \dots + 1000$ . C'est la somme des termes d'une suite arithmétique de raison 3. Donc  $u_n = u_0 + nr$

Le nombre de termes est  $n + 1 = \frac{u_n - u_0}{r} + 1$ . Soit  $n + 1 = \frac{1000-1}{3} + 1 = 334$

donc  $S' = (n + 1) \times \frac{u_0 + u_n}{2} = 334 \times \frac{1001}{2} = 167167$

3)  $\forall n \in \mathbb{N}, u_n = \frac{n}{1+n}$

a.  $u_0 = 0 \quad u_1 = \frac{1}{2} \quad u_2 = \frac{2}{3} \quad u_3 = \frac{3}{4}$

$u_1 - u_0 \neq u_2 - u_1$  donc  $u$  n'est pas une suite arithmétique.

$\frac{u_2}{u_1} \neq \frac{u_3}{u_2}$  donc  $u$  n'est pas une suite géométrique.

b. On calcule  $u_{n+1} - u_n$

$$u_{n+1} - u_n = \frac{n+1}{n+2} - \frac{n}{n+1} = \frac{1}{(n+2)(n+1)} > 0 \quad \forall n \in \mathbb{N}$$

Donc la suite  $u$  est croissante.

4) Montrons par récurrence que  $(u_n)$  est majorée par 4. On note  $\mathcal{P}(n): u_n \leq 4$

Initialisation :  $u_0 = 0 \leq 4$  donc  $\mathcal{P}(0)$  vraie

Hérédité : Soit  $n \in \mathbb{N}$ . Je suppose que  $\mathcal{P}(n)$  est vraie, c'est-à-dire  $u_n \leq 4$ .

Montrons que  $\mathcal{P}(n+1)$  est vraie, c'est-à-dire  $u_{n+1} \leq 4$ .

$u_n \leq 4$  donc  $3u_n + 4 \leq 3 \times 4 + 4$ . Or,  $x \mapsto \sqrt{x}$  est strictement croissante sur  $\mathbb{R}^+$ , donc  $\sqrt{3u_n + 4} \leq \sqrt{16}$

D'où  $u_{n+1} \leq 4$  ( $\mathcal{P}(n+1)$  est vraie)

Conclusion : D'après le principe de récurrence,  $\forall n \in \mathbb{N}, \mathcal{P}(n)$  est vraie c'est-à-dire  $\forall n \in \mathbb{N}, u_n \leq 4$

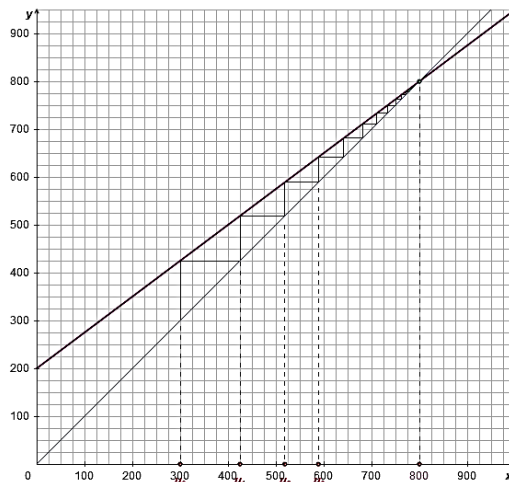
**Exercice 8 : Suite arithmético-géométrique**

1)- Pour obtenir la représentation des quatre premiers termes de la suite :

- Placer le terme initial  $u_0 = 300$  sur l'axe des abscisses,
- Comme  $u_1 = 0,75u_0 + 200$ ,  $u_1$  est l'ordonnée de la droite d'équation  $y = 0,75x + 200$  d'abscisse 300,
- A l'aide de la droite d'équation  $y = x$ , rabattre l'ordonnée  $u_1$  sur l'axe des abscisses,
- Poursuivre ce procédé pour représenter  $u_2$  et  $u_3$ .

Graphiquement, la suite semble converger vers l'abscisse du point d'intersection des deux droites. Cette abscisse est solution de l'équation  $x = 0,75x + 200$ , c'est-à-dire  $x = 800$ .

La suite semble donc converger vers 800.



2)- a-  $\forall n, v_{n+1} = u_{n+1} - 800 = 0,75u_n + 200 - 800 = 0,75(v_n + 800) - 600 = 0,75v_n$   
Donc la suite  $v$  est bien géométrique de raison 0,75 et de premier terme  $v_0 = u_0 - 800 = -500$

b-  $v_n = v_0 \cdot q^n = -500 \times 0,75^n$  donc  $u_n = v_n + 800 = 800 - 500 \times 0,75^n$

c-  $0 < 0,75 < 1$ , donc  $\lim_{n \rightarrow +\infty} 0,75^n = 0$  donc  $\lim_{n \rightarrow +\infty} -500 \times 0,75^n = 0$  donc  $\lim_{n \rightarrow +\infty} u_n = 800$

3)- a- On cherche  $n$  tel que  $u_n \geq 790$ . On écrit un algorithme sur la calculatrice permettant de trouver la première valeur de  $n$  vérifiant l'inégalité.

**Initialisation**

U prend la valeur 300

N prend la valeur 0

**Traitement**

Tant que  $U < 790$

U prend la valeur  $U * 0,75 + 200$

N prend la valeur  $N + 1$

Fin Tant que

b-  $u_n = 800 - 500 \times 0,75^n$  donc la suite  $u$  est majorée par 800. Le gérant ne pourra donc jamais espérer 1000 abonnés.

**Sortie**

Afficher N

On trouve :  $n = 14$ .

Le nombre d'abonnés sera supérieur à 790 à partir de 2024.

**Exercice 9 : Trigonométrie**

1) a) Soit  $t \in \mathbb{R}$ ,  $t$  est solution de  $\cos(t) = \cos \frac{3\pi}{4}$  ssi  $\begin{cases} t = \frac{3\pi}{4} + 2k\pi & (k \in \mathbb{Z}) \\ \text{ou} \\ t = -\frac{3\pi}{4} + 2k\pi & (k \in \mathbb{Z}) \end{cases}$

donc  $\mathcal{S} = \left\{ \frac{3\pi}{4} + 2k\pi, -\frac{3\pi}{4} + 2k\pi, \text{avec } k \in \mathbb{Z} \right\}$

b) Soit  $t \in \mathbb{R}$ ,  $t$  est solution de  $\sin(t) = -\frac{\sqrt{2}}{2}$  ssi  $\sin(t) = \sin\left(-\frac{\pi}{4}\right)$  ssi  $\begin{cases} t = -\frac{\pi}{4} + 2k\pi & (k \in \mathbb{Z}) \\ \text{ou} \\ t = -\frac{3\pi}{4} + 2k\pi & (k \in \mathbb{Z}) \end{cases}$

donc  $\mathcal{S} = \left\{ -\frac{\pi}{4} + 2k\pi, -\frac{3\pi}{4} + 2k\pi, \text{avec } k \in \mathbb{Z} \right\}$

c) Soit  $t \in \mathbb{R}$ ,  $t$  est solution de  $\cos(t) = -\cos \frac{\pi}{5}$  ssi  $\cos(t) = \cos\left(\pi - \frac{\pi}{5}\right) = \cos \frac{4\pi}{5}$

ssi  $\begin{cases} t = \frac{4\pi}{5} + 2k\pi & (k \in \mathbb{Z}) \\ \text{ou} \\ t = -\frac{4\pi}{5} + 2k\pi & (k \in \mathbb{Z}) \end{cases}$

donc  $\mathcal{S} = \left\{ \frac{4\pi}{5} + 2k\pi, -\frac{4\pi}{5} + 2k\pi, \text{avec } k \in \mathbb{Z} \right\}$

d) Soit  $t \in \mathbb{R}$ ,  $t$  est solution de  $\sin(2t) = \frac{1}{2}$  ssi  $\sin(2t) = \sin\left(\frac{\pi}{6}\right)$  ssi  $\begin{cases} t = \frac{\pi}{12} + k\pi & (k \in \mathbb{Z}) \\ \text{ou} \\ t = \frac{5\pi}{12} + k\pi & (k \in \mathbb{Z}) \end{cases}$

donc  $\mathcal{S} = \left\{ \frac{\pi}{12} + k\pi, \frac{5\pi}{12} + k\pi, \text{avec } k \in \mathbb{Z} \right\}$

e) Soit  $x \in \mathbb{R}$ ,  $x$  est solution de  $\sin(2x) = -\cos\left(\frac{2\pi}{5}\right)$  ssi  $\sin(2x) = \sin\left(-\frac{\pi}{2} + \frac{2\pi}{5}\right)$

ssi  $\begin{cases} 2x = -\frac{\pi}{10} + 2k\pi & (k \in \mathbb{Z}) \\ \text{ou} \\ 2x = \pi + \frac{\pi}{10} + 2k\pi & (k \in \mathbb{Z}) \end{cases}$   
ssi  $\begin{cases} x = -\frac{\pi}{20} + k\pi & (k \in \mathbb{Z}) \\ \text{ou} \\ x = \frac{11\pi}{20} + k\pi & (k \in \mathbb{Z}) \end{cases}$

donc  $\mathcal{S} = \left\{ -\frac{\pi}{20} + k\pi, \frac{11\pi}{20} + k\pi, \text{avec } k \in \mathbb{Z} \right\}$

2)  $A(x) = \sin(\pi + x) + \cos\left(\frac{\pi}{2} - x\right) + \cos\left(\frac{\pi}{2} + x\right) + \sin(\pi - x) = -\sin x + \sin x - \sin x + \sin x = 0$

Donc  $A(x) = 0$

$B(x) = \cos(x + \pi) \sin\left(\frac{\pi}{2} - x\right) - \sin^2(-x) = -\cos x \times \cos x - \sin^2 x = -1$  Donc  $B(x) = -1$

$C(x) = \sin\left(\frac{\pi}{3} + x\right) - \sin\left(\frac{\pi}{3} - x\right) = \sin \frac{\pi}{3} \times \cos x + \cos \frac{\pi}{3} \times \sin x - \sin \frac{\pi}{3} \times \cos x + \cos \frac{\pi}{3} \times \sin x = \frac{1}{2} \sin x + \frac{1}{2} \sin x$

Donc  $C(x) = \sin x$

$D(x) = (\cos x + \sin x)^2 + (\cos x - \sin x)^2 = \cos^2 x + 2 \cos x \sin x + \sin^2 x + \cos^2 x - 2 \cos x \sin x + \sin^2 x = 2$

Donc  $D(x) = 2$

3) Soit  $x \in \mathbb{R}$ ,  $\cos^4 x - \sin^4 x = (\cos^2 x + \sin^2 x)(\cos^2 x - \sin^2 x) = \cos^2 x - \sin^2 x = \cos 2x$

Donc  $\forall x \in \mathbb{R}, \cos^4 x - \sin^4 x = \cos 2x$



**Exercice 10 : Probabilités conditionnelles**

1.  $A$  et  $\bar{A}$  forment une partition de l'univers étudié donc  $P(B) = P(A \cap B) + P(\bar{A} \cap B)$   
Donc  $P(A \cap B) = P(B) - P(\bar{A} \cap B) = P(B) - P(\bar{A}) \times P_A(B) = 0,39 - 0,9 \times 0,4 = 0,03$
2.  $P_A(B) = \frac{P(A \cap B)}{P(A)} = \frac{0,03}{0,1} = 0,3$

**Exercice 11 : Géométrie analytique**

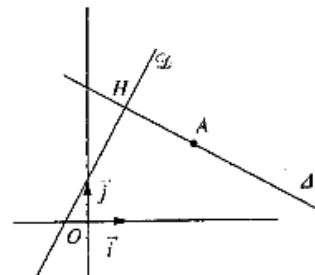
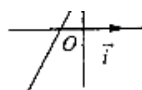
1° La droite  $\mathcal{D}$  contient les points  $E(0; 1)$  et  $F(1; 3)$ .

2°  $\vec{u} \begin{pmatrix} 1 \\ 2 \end{pmatrix}$  est un vecteur directeur de  $\mathcal{D}$ ,

donc  $\vec{n} \begin{pmatrix} 2 \\ -1 \end{pmatrix}$  est un vecteur normal à  $\mathcal{D}$ .

3°  $\vec{u} \begin{pmatrix} 1 \\ 2 \end{pmatrix}$  est un vecteur normal à  $\Delta$ .

3°  $\vec{u} \begin{pmatrix} 1 \\ 2 \end{pmatrix}$  est un vecteur normal à  $\Delta$ .



Soit un point  $M(x; y)$ .

$M \in \Delta$  si, et seulement si,  $\vec{u} \cdot \overrightarrow{AM} = 0$ ;

$M \in \Delta$  si, et seulement si,  $1 \times (x-3) + 2 \times (y-2) = 0$ ;

$M \in \Delta$  si, et seulement si,  $x + 2y - 7 = 0$ ;

$M \in \Delta$  si, et seulement si,  $y = -\frac{1}{2}x + \frac{7}{2}$ .

Une équation de  $\Delta$  est  $y = -\frac{1}{2}x + \frac{7}{2}$ .

4° Le point d'intersection  $H(x; y)$  des droites  $\mathcal{D}$  et  $\Delta$  vérifie : 
$$\begin{cases} y = 2x + 1 \\ y = -\frac{1}{2}x + \frac{7}{2} \end{cases}$$

ce système équivaut successivement à : 
$$\begin{cases} y = 2x + 1 \\ 2x + 1 = -\frac{1}{2}x + \frac{7}{2} \end{cases}$$

$$\begin{cases} y = 2x + 1 \\ \frac{5}{2}x = \frac{5}{2} \end{cases}$$

$$\begin{cases} y = 3 \\ x = 1 \end{cases}$$

D'où  $H(1; 3)$ .

5°  $\overrightarrow{AH} \begin{pmatrix} -2 \\ 1 \end{pmatrix}$ , d'où :  $AH = \sqrt{(-2)^2 + 1^2} = \sqrt{5}$ .

6° Le cercle  $\mathcal{C}$  de centre  $A$ , tangent à  $\mathcal{D}$  est le cercle dont un rayon est  $[AH]$ , puisque  $(AH)$  est orthogonale à  $\mathcal{D}$ .

Soit un point  $M(x; y)$ .

$M \in \mathcal{C}$  si, et seulement si,  $AM = \sqrt{5}$ ;

$M \in \mathcal{C}$  si, et seulement si,  $AM^2 = 5$ ;

$M \in \mathcal{C}$  si, et seulement si,  $(x-3)^2 + (y-2)^2 = 5$ .

Une équation du cercle  $\mathcal{C}$  est  $(x-3)^2 + (y-2)^2 = 5$

(ou, sous forme développée :  $x^2 + y^2 - 6x - 4y + 8 = 0$ ).

## Exercice 12 : Géométrie analytique

Dans le repère proposé, les coordonnées des points sont :

$A(0, 0)$ ;  $B(1, 0)$ ;  $D(0, d)$ ;  $E(e, 0)$ ;  $F(0, 1)$ . On a  $e \neq 0$  et  $d \neq 0$ .

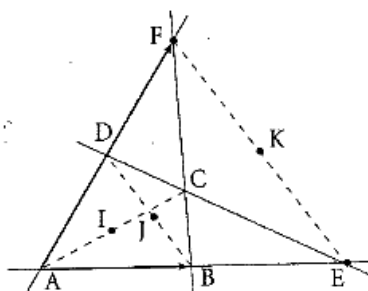
1. En utilisant le résultat de l'exercice 6, les équations demandées sont :

$$(BF) \quad x + y - 1 = 0;$$

$$(DE) \quad \frac{x}{e} + \frac{y}{d} - 1 = 0.$$

2. I est le milieu de [AC], il nous faut calculer les coordonnées de C :

$$\begin{cases} x + y - 1 = 0 \\ \frac{x}{e} + \frac{y}{d} - 1 = 0 \end{cases}$$



- En multipliant la 1<sup>re</sup> équation par  $-\frac{1}{d}$  et en additionnant membre à membre :

$$x\left(\frac{1}{e} - \frac{1}{d}\right) = 1 - \frac{1}{d}$$

$$x = \frac{(d-1)e}{d-e}$$

De même :

$$y = \frac{(e-1)d}{e-d}$$

Les coordonnées de C et I sont donc respectivement :

$$C \begin{pmatrix} \frac{(d-1)e}{d-e} \\ \frac{(e-1)d}{e-d} \end{pmatrix}; \quad I \begin{pmatrix} \frac{(d-1)e}{2(d-e)} \\ \frac{(e-1)d}{2(e-d)} \end{pmatrix}$$

Les coordonnées de J et K sont respectivement :

$$J \begin{pmatrix} \frac{1}{2} \\ \frac{d}{2} \end{pmatrix}, \quad K \begin{pmatrix} \frac{e}{2} \\ \frac{1}{2} \end{pmatrix}$$

### Rappel

J est le milieu de [BD], donc les coordonnées de J sont les demi-sommes des coordonnées des points B et D.

3. Montrer que  $\vec{JI}$  et  $\vec{JK}$  sont colinéaires :

$$\vec{JI} \begin{pmatrix} \frac{(d-1)e}{2(d-e)} - \frac{1}{2} \\ \frac{(e-1)d}{2(e-d)} - \frac{d}{2} \end{pmatrix} = \begin{pmatrix} \frac{d(e-1)}{2(d-e)} \\ \frac{d(1-d)}{2(d-e)} \end{pmatrix}; \quad \vec{JK} \begin{pmatrix} \frac{e-1}{2} \\ \frac{1-d}{2} \end{pmatrix}$$

$\frac{d(e-1)}{2(d-e)} \times \frac{1-d}{2} - \frac{d(1-d)}{2(d-e)} \times \frac{e-1}{2} = 0$ , donc les vecteurs  $\vec{JI}$  et  $\vec{JK}$  sont colinéaires.

Les points I, J, K sont alignés.